



PREFEITURA MUNICIPAL DE MARACAJÁ
PROCESSO SELETIVO
EDITAL N.º 001/PMM/2020
MONITOR DE ÔNIBUS



NOME: _____

ASSINATURA: _____

TEMPO

- A prova terá duração de 3h30min (Três horas e trinta minutos);
- O candidato somente poderá sair da sala de realização da prova após transcorrida 01h (uma) do seu início, sem levar o caderno de prova.

INFORMAÇÕES GERAIS

- Confira seus dados pessoais, especialmente nome, e número de inscrição e leia atentamente as instruções para preencher o Cartão de respostas;
- Assine seu nome apenas no(s) espaço(s) reservados;
- Confira seu cargo no Caderno de questões e Cartão de respostas;
- O preenchimento do Cartão de respostas é de sua responsabilidade. Não será efetuada troca em caso de rasura ou erro no preenchimento;
- Serão 40 questões objetivas de múltipla escolha sendo 15 questões de Conhecimentos gerais e de 25 questões de Conhecimentos específicos para cada cargo, subdivididas em 04 (quatro) alternativas de resposta, de “a” a “d”, e dessas alternativas somente 1 (uma) deverá ser assinalada como correta;
- Para realização da prova o candidato deverá trazer somente caneta esferográfica, com tinta azul ou preta;
- Não serão prestados quaisquer esclarecimentos sobre as questões das provas durante sua realização. O candidato poderá, se for o caso, interpor recurso no prazo definido pelo edital;
- O candidato não poderá ausentar-se da sala de prova, a qualquer tempo, portando material de prova (caderno de questões e/ou folha de respostas);
- O candidato que necessitar ausentar-se da sala de prova durante sua realização somente poderá fazê-lo se acompanhado de um fiscal;
- Para garantir a lisura e segurança na realização da prova a Coordenação Local poderá fazer uso de detectores de metal nos banheiros, nos corredores e/ou na sala de prova;
- Ao terminar a prova, o candidato entregará ao fiscal da sala o caderno de questões e a folha de respostas devidamente preenchido e assinado, com caneta esferográfica, com tinta azul ou preta;
- Os 03 (três) últimos candidatos de cada sala de prova somente poderão entregar o material de prova e se retirarem da sala simultaneamente. Exceto nos casos de cargos que não possuem no mínimo 03 candidatos.

Maracajá – SC, 09 de fevereiro de 2020.



CONHECIMENTOS GERAIS – 15 QUESTÕES

QUESTÃO 01 (Valor: 1)

O ano de 2019 foi marcado por polêmicos e conflituosos eventos políticos na América Latina. Assinale a alternativa com o nome do país em que Juan Guaidó autoproclamou-se presidente.

- A) Venezuela
- B) Peru
- C) Bolívia
- D) Chile

QUESTÃO 02 (Valor: 1)

Assinale a alternativa com o nome do atual vice-presidente da república do Brasil.

- A) Michel Temer
- B) Jair Messias Bolsonaro
- C) Sérgio Fernando Moro
- D) Antônio Hamilton Martins Mourão

QUESTÃO 03 (Valor: 1)

Atualmente, há uma discussão importante em nossa sociedade sobre as energias renováveis, também chamadas de energias limpas. Assinale a alternativa que contenha apenas exemplos deste tipo de energia.

- A) Carvão mineral, energia hidroelétrica, energia solar
- B) Energia eólica, carvão mineral, energia solar
- C) Energia eólica, energia hidroelétrica, energia solar
- D) Gasolina, energia eólica, energia hidroelétrica

QUESTÃO 04 (Valor: 1)

O Brasil está dividido geograficamente em cinco grandes regiões. Quais são elas?

- A) Norte, Nordeste, Sudeste, Centro-Oeste, Sul
- B) Norte, Noroeste, Sudeste, Centro-Oeste, Sul
- C) Nordeste, Sudeste, Sudoeste, Centro-Oeste, Sul
- D) Norte, Nordeste, Sudeste, Cerrado, Sul

QUESTÃO 05 (Valor: 1)

Em 2019, dentro do quadro de reformas prometido pelo atual governo federal, foi aprovada uma reforma no Congresso Nacional que determina mudanças nas aposentadorias dos brasileiros. De que reforma estamos falando?

- A) Reforma Tributária
- B) Reforma da Previdência Social
- C) Reforma Trabalhista
- D) Reforma da Saúde



QUESTÃO 06 (Valor: 1)

Há, na fala, diversas maneiras de se dizer o que pretende, podendo-se utilizar gírias e expressões regionais, por exemplo. Entretanto, há momentos mais formais que outros e isso também está presente na fala. Essas diferenças são caracterizadas por: linguagem formal e linguagem informal.

Analise as frases abaixo e as relacione com a linguagem correspondente.

- () Senhor, as planilhas já estão disponíveis para conferência.
- (A) Linguagem formal
- () Ô irmão, tu viu minha bike por aí?
- () Sôra, não consegui entender essa questão aqui, ó!
- (B) Linguagem informal
- () Bom dia, eu poderia lhe ajudar em algo?

Assinale a alternativa que apresenta a ordem CORRETA.

- A) B - A - A - B.
B) A - B - A - B.
C) A - B - B - A.
D) A - B - B - B.

QUESTÃO 07 (Valor: 1)

Quanto ao uso ou não de acentos, assinale a alternativa em que todas as palavras estão escritas CORRETAMENTE.

- A) minissáia – livraria – telegrama – computador.
B) assembleia – pastéis – ideia – cidadãos.
C) isqueiro – assembléia – minissaia – vôo.
D) secretaria – computador – paginá – reêmbolso.

QUESTÃO 08 (Valor: 1)

Preencha as lacunas do texto abaixo e assinale a alternativa que apresenta as palavras CORRETAS.

“Nos atrasamos para a _____ de cinema porque o meu carro estragou, tive que deixa-lo no _____ e só irei busca-lo amanhã de tarde, no período de maior _____ na rodovia.”

- A) sessão – concerto – tráfego.
B) seção – concerto – tráfico.
C) seção – conserto – tráfego.
D) sessão – conserto – tráfego.



QUESTÃO 09 (Valor: 1)

Leia com atenção as frases abaixo e assinale a alternativa em que a sentença NÃO gera mais de um significado.

- A) Preciso da chave do cofre que está na sua casa.
- B) A atendente mal-humorada dobrou os lençóis.
- C) Felizes, as crianças correram para o parque.
- D) Falei com meu amigo que estava com enjoos.

QUESTÃO 10 (Valor: 1)

Leia as frases abaixo e assinale a alternativa que corresponde às escritas de maneira INCORRETA.

- I – Se você querer, posso buscar aqueles livros.
- II – Faz duas horas que estou esperando o atendimento médico.
- III – Eu gostaria de levar duzentos gramas de muçarela.
- IV – Eu vou pedir apenas um omelete.

- A) Apenas I e IV.
- B) Apenas II e III.
- C) Apenas I, III e IV.
- D) Apenas I.

QUESTÃO 11 (Valor: 1)

Num cofre estão depositadas apenas moedas de 25 centavos e de 50 centavos, num total de 31 moedas. Sabe-se ainda que o número de moedas de 25 centavos excede o de 50 centavos em 5 unidades. Essas moedas totalizam a quantia de:

- A) R\$ 10,50
- B) R\$ 11,00
- C) R\$ 11,50
- D) R\$ 12,00

QUESTÃO 12 (Valor: 1)

O casal Sandro e Marcia querem reformar o piso do seu apartamento, para tanto, contaram todas as peças do piso atual, e chegaram ao número de 300 peças que mediam 20 cm por 20 cm cada uma. Para o novo piso escolheram peças que medem 30 cm por 25 cm. Nestas condições e considerando perda zero, o número mínimo de peças que o casal vai precisar comprar é:

- A) 160
- B) 170
- C) 180
- D) 190



QUESTÃO 13 (Valor: 1)

No Supermercado “Compre Mais” o quilograma de uma certa marca de presunto custa R\$ 8,60. Vinício necessita comprar apenas 350 gramas desse presunto para servir no café da manhã da sua família. Assinale o valor do troco se Vinício levar R\$ 5,00:

- A) R\$ 2,91
- B) R\$ 2,09
- C) R\$ 1,91
- D) R\$ 1,99

QUESTÃO 14 (Valor: 1)

Para escoar completamente o conteúdo de uma caixa d’água uma bomba leva 1 hora, 37 minutos e 42 segundos. Qual será o tempo para escoar completamente o mesmo conteúdo se usarmos 2 bombas iguais a anterior?

- A) 46 minutos e 21 segundos
- B) 47 minutos e 21 segundos
- C) 48 minutos e 51 segundos
- D) 46 minutos e 51 segundos

QUESTÃO 15 (Valor: 1)

No quadro a seguir está representado o saldo da conta bancária de Bianca em três dias do mês de abril. Em qual dos três dias a conta de Bianca apresentou o maior saldo? E o menor?

Dia 17 de abril: - R\$ 117,00

Dia 23 de abril: - R\$ 51,00

Dia 30 de abril: - R\$ 84,00

- A) Maior saldo no dia 23 de abril e o menor saldo no dia 17 de abril
- B) Maior saldo no dia 17 de abril e o menor saldo no dia 30 de abril
- C) Maior saldo no dia 17 de abril e o menor saldo no dia 23 de abril
- D) Maior saldo no dia 30 de abril e o menor saldo no dia 23 de abril

CONHECIMENTOS ESPECÍFICOS - 25 QUESTÕES

QUESTÃO 16 (Valor: 1)

De acordo com o Estatuto da Criança e do Adolescente – ECA, Lei Nº 8.069/1990, toda a criança e adolescente têm direito à liberdade, ao respeito e à dignidade como pessoas humanas em processo de desenvolvimento e como sujeitos de direitos civis, humanos e sociais garantidos na Constituição e nas leis. Com relação ao direito à liberdade, marque a alternativa CORRETA.



- A) A criança e o adolescente têm o direito de ir e vir nos logradouros públicos e espaços comunitários, ressalvadas as restrições legais.
- B) A criança e o adolescente terão direito participar da vida familiar e comunitária, sem discriminação, como também, brincar, praticar esportes e divertir-se.
- C) A criança e o adolescente terão direito a crença e culto religioso.
- D) Todas as alternativas estão corretas.

QUESTÃO 17 (Valor: 1)

Marque a alternativa CORRETA. De acordo com o Estatuto da Criança e do Adolescente – ECA, é expressamente proibida à venda:

- A) Bilhetes lotéricos e equivalentes.
- B) Armas, munições e explosivos.
- C) Bebidas alcoólicas.
- D) Todas as alternativas estão corretas.

QUESTÃO 18 (Valor: 1)

De acordo com o artigo 18-A, do ECA, a criança e o adolescente têm o direito de serem educados e cuidados sem o uso de castigo físico ou de tratamento cruel ou degradante, como formas de correção, disciplina, educação ou qualquer outro pretexto, pelos pais, pelos integrantes da família ampliada, pelos responsáveis, pelos agentes públicos executores de medidas socioeducativas ou por qualquer pessoa encarregada de cuidar deles, tratá-los, educá-los ou protegê-los. Ainda no mesmo artigo, castigo físico é a ação de natureza disciplinar ou punitiva aplicada com o uso da força física sobre a criança ou o adolescente. Para fins desta Lei, considera-se castigo físico:

- A) Sofrimento físico, lesão, amor, atenção.
- B) Tratamento degradante, humilhação, atenção, afeto.
- C) Tratamento cruel ou degradante, humilhação, ameaçar gravemente a criança e o adolescente.
- D) Advertências leves, praticas esportes, participar da vida familiar, ridicularizar.

QUESTÃO 19 (Valor: 1)

Com relação ao Estatuto da Criança e do Adolescente – ECA, caso o monitor suspeitar ou confirmar que o escolar está sofrendo castigo físico, tratamento cruel ou degradante e de maus tratos, deverá tomar a seguinte atitude:

- A) Pedir explicações ao escolar que está sofrendo maus tratos.
- B) Obrigatoriamente deverá informar ao Conselho Tutelar da respectiva localidade.
- C) Não será necessário fazer nada, pois não é seu parente.
- D) Denunciar a família e a escola para polícia.

QUESTÃO 20 (Valor: 1)

De acordo com o Código de Trânsito Brasileiro, Lei nº. 9.503/1997, considera-se trânsito a utilização das vias por pessoas, veículos e animais, isolados ou em grupos, conduzidos ou não, para fins de circulação, parada, estacionamento e operação de carga ou descarga. Marque a alternativa INCORRETA.



- A)** O trânsito, em condições seguras, é um direito de todos e dever dos órgãos e entidades componentes do Sistema Nacional de Trânsito, a estes cabendo, no âmbito das respectivas competências, adotar as medidas destinadas a assegurar esse direito.
- B)** O ônibus escolar não estará sujeito a fiscalização pelo órgão responsável.
- C)** Os órgãos e entidades de trânsito pertencentes ao Sistema Nacional de Trânsito darão prioridade em suas ações à defesa da vida, nela incluída a preservação da saúde e do meio-ambiente.
- D)** São vias terrestres urbanas e rurais as ruas, as avenidas, os logradouros, os caminhos, as passagens, as estradas e as rodovias, que terão seu uso regulamentado pelo órgão ou entidade com circunscrição sobre elas, de acordo com as peculiaridades locais e as circunstâncias especiais.

QUESTÃO 21 (Valor: 1)

Marque a alternativa CORRETA. Para que um condutor possa dirigir veículo destinado ao transporte de escolares é preciso, além de outras exigências, que tenha idade superior a:

- A)** 18 anos e seja habilitado na categoria D.
- B)** 18 anos e seja habilitado na categoria B.
- C)** 21 anos e seja habilitado na categoria D.
- D)** Nenhuma das alternativas acima.

QUESTÃO 22 (Valor: 1)

De acordo com as normas gerais de circulação e conduta descrita no Código de Trânsito Brasileiro, marque a alternativa CORRETA.

- A)** O trânsito de veículos sobre passeios, calçadas e nos acostamentos, só poderá ocorrer para que se adentre ou se saia dos imóveis ou áreas especiais de estacionamento.
- B)** Não será necessário o condutor, a todo momento, ter domínio de seu veículo, dirigindo-o com atenção e cuidados indispensáveis à segurança do trânsito.
- C)** Não será necessário o monitor de ônibus, a todo momento, agir com cuidado e atenção indispensáveis à segurança dos passageiros do ônibus.
- D)** Antes de colocar o veículo em circulação nas vias públicas, o condutor não precisa verificar a existência e as boas condições de funcionamento dos equipamentos de uso obrigatório, bem como assegurar-se da existência de combustível suficiente para chegar ao local de destino.

QUESTÃO 23 (Valor: 1)

De acordo com o Código de Trânsito Brasileiro, todo condutor deverá, antes de efetuar uma ultrapassagem, certificar-se de que:

- A)** Nenhum condutor que venha atrás haja começado uma manobra para ultrapassá-lo.
- B)** Quem o precede na mesma faixa de trânsito não haja indicado o propósito de ultrapassar um terceiro.
- C)** A faixa de trânsito que vai tomar esteja livre numa extensão suficiente para que sua manobra não ponha em perigo ou obstrua o trânsito que venha em sentido contrário.
- D)** Todas as alternativas estão corretas.



QUESTÃO 24 (Valor: 1)

Marque a alternativa CORRETA. De acordo com o Código de Trânsito Brasileiro – CTB, é muito claro em afirmar que todo condutor, ao perceber que outro que o segue tem o propósito de ultrapassá-lo, deverá:

- A) Se estiver circulando pela faixa da esquerda, não precisa deslocar-se para a faixa da direita, pois é direito manter-se na esquerda.
- B) O condutor que tenha o propósito de ultrapassar um veículo de transporte coletivo que esteja parado, efetuando embarque ou desembarque de passageiros, deverá reduzir a velocidade, dirigindo com atenção redobrada ou parar o veículo com vistas à segurança dos pedestres.
- C) Não dar passagem pela esquerda, pois não é considerado infração de trânsito.
- D) Quando o condutor for realizar uma ultrapassagem, acionar a luz alta do veículo.

QUESTÃO 25 (Valor: 1)

Impossível imaginar o trânsito sem sinalização, isso fica evidente quando falamos da faixa de pedestres, isto é, todo o condutor deverá dar prioridade de passagem ao pedestre quando estiver na faixa destinada. Diante o descrito é CORRETO afirmar que:

- A) Dirigir ameaçando os pedestres que estejam atravessando a via pública ou os demais veículos não é considerado infração de trânsito.
- B) Parar o veículo sobre a faixa de pedestres na mudança de sinal luminoso é infração de trânsito e o condutor será punido com 4 pontos em seu prontuário por ser uma infração natureza média.
- C) Se o condutor do transporte escolar estiver com pressa poderá não dar passagem ao pedestre quando este precisar realizar a travessia na faixa a ele destinada.
- D) Caso o sinal semafórico fique verde e o pedestre ainda não tenha concluído a travessia da faixa a ele destinada, é direito do condutor acelerar o ônibus pois o sinal verde abriu.

QUESTÃO 26 (Valor: 1)

Por estacionar, entende-se:

- A) Imobilização de veículos por tempo superior ao necessário para embarque ou desembarque de passageiros.
- B) Uma parada obrigatória pelo tempo necessário para fazer uma manobra de retorno.
- C) Manter o veículo antes da faixa de pedestres para aguarda a luz verde do semáforo.
- D) Parar rapidinho para a decida dos passageiros do veículo.

QUESTÃO 27 (Valor: 1)

Quando o condutor visualizar a placa  (R-4b), o que NÃO poderá fazer?

- A) Realizar conversão à esquerda.
- B) Manobra de retorno.
- C) Entrar no estacionamento.
- D) Realizar conversão à direita.





QUESTÃO 28 (Valor: 1)

Diante da placa  (R-19), você deverá:


- A) Parar seu veículo e olhar bem o trânsito antes de entrar ou cruzar a via.
- B) Manter a velocidade igual ou superior da velocidade indicada na placa.
- C) Manter a velocidade igual ou abaixo da velocidade indicada na placa.
- D) Reduzir a velocidade e, se necessário, parar seu veículo, dando preferência aos pedestres.

QUESTÃO 29 (Valor: 1)

Marque a alternativa correta. Diante a sinalização apresentada, qual das placas de sinalização vertical de regulamentação NÃO permite, em hipótese alguma, a parada de veículos?

- A) 
- B) 
- C) 
- D) 

QUESTÃO 30 (Valor: 1)

Diante da placa  (R-7), você entende que é:

- A) Proibida ultrapassagem de veículos de transporte escolar.
- B) Proibida ultrapassagem de veículos de duas ou três rodas.
- C) Proibido estacionar em fila dupla.
- D) Proibida a manobra de ultrapassagem no trecho onde a placa regulamenta.

QUESTÃO 31 (Valor: 1)

Com a sequência das três placas de advertência abaixo, marque a alternativa CORRETA seguindo a ordem apresentada:



- A) Passagem sinalizada de escolares, Área escolar, Semáforo à frente.
- B) Semáforo à frente, Área escolar, Passagem sinalizada de escolares.
- C) Semáforo à frente, Trânsito de Pedestres, Passagem sinalizada de escolares.
- D) Semáforo à frente, Passagem sinalizada de escolares, Área escolar.



QUESTÃO 32 (Valor: 1)

Com relação aos veículos destinados à condução coletiva de escolares, marque a alternativa CORRETA:

- A) Não será exigido no órgão de trânsito o registro como veículo de passageiros.
- B) Não será obrigatório a inspeção semestral para verificação dos equipamentos obrigatórios e de segurança.
- C) Será exigido pintura de faixa horizontal na cor amarela, com quarenta centímetros de largura, à meia altura, em toda a extensão das partes laterais e traseira da carroçaria, com o dístico ESCOLAR, em preto, sendo que, em caso de veículo de carroçaria pintada na cor amarela, as cores aqui indicadas devem ser invertidas.
- D) Fica dispensado o uso de equipamento registrador instantâneo inalterável de velocidade e tempo, mais conhecido como Tacógrafo.

QUESTÃO 33 (Valor: 1)

De acordo com o Código de Trânsito Brasileiro, o condutor de veículo que desejar atuar na condução de escolares deve satisfazer os seguintes requisitos:

- A) Ter idade superior a vinte e um anos; ser habilitado na categoria D; não ter cometido nenhuma infração grave ou gravíssima, ou ser reincidente em infrações médias durante os doze últimos meses; ser aprovado em curso especializado, nos termos da regulamentação do CONTRAN.
- B) Ter idade superior a dezoito anos; ser habilitado na categoria D; não ter cometido nenhuma infração grave ou gravíssima, ou ser reincidente em infrações médias durante os doze últimos meses, no entanto não será necessário realizar curso especializado para conduzir veículo escolar.
- C) Ter idade superior a vinte e um anos; ser habilitado na categoria B; não ter cometido nenhuma infração grave ou gravíssima, ou ser reincidente em infrações médias durante os doze últimos meses; ser aprovado em curso especializado, nos termos da regulamentação do CONTRAN.
- D) Ter idade superior a dezoito anos; ser habilitado na categoria C; não ter cometido nenhuma infração grave ou gravíssima, ou ser reincidente em infrações médias durante os doze últimos meses; ser aprovado em curso especializado, nos termos da regulamentação do CONTRAN.

QUESTÃO 34 (Valor: 1)

Marque a alternativa CORRETA. Em caso de acidente de trânsito com o ônibus escolar, quais procedimentos que devem ser adotados?

- A) Solicitar o serviço de resgate, informando o tipo de acidente, número aproximado de vítimas, nome da rua e número aproximado.
- B) Não será necessário solicitar o resgate, pois como sou monitor de ônibus posso realizar o resgate das vítimas.
- C) Movimentar a vítima, aplicar torniquetes para estancar hemorragias, dar comida e bebida para vítima.
- D) Não sinalizar o local, pois não será necessário.

QUESTÃO 35 (Valor: 1)

Diante graves problemas relacionados ao meio ambiente, com o excesso na emissão de poluentes do ar, sonoros, causados pelos veículos automotores, é CORRETO afirmar:



- A) Usar dispositivo de controle de emissão de gases, como o catalisador, ajuda na diminuição de poluentes emitidos pelos veículos automotores.
- B) Regulando periodicamente o motor do veículo, estará ajudando na diminuição de emissão de poluentes causado pelos veículos automotores.
- C) Manter o silenciador do veículo em bom estado, ajuda na diminuição de poluentes emitidos pelos veículos automotores.
- D) Todas as alternativas estão corretas.

QUESTÃO 36 (Valor: 1)

O tratamento que será realizado pelo monitor de ônibus aos professores e alunos tem diretamente base no relacionamento interpessoal. Sendo assim, marque a alternativa CORRETA:

- A) Respeitar as limitações das pessoas é de grande importância na profissão de monitor de ônibus.
- B) Reconhecer o direito das pessoas, não descontinuar suas frustrações.
- C) Ter ética no trabalho, seguir as normas do empregador e contribuir sempre para um bom ambiente.
- D) Todas as alternativas estão corretas.

QUESTÃO 37 (Valor: 1)

Durante o trabalho no ônibus escolar, o monitor deve tomar os seguintes cuidados:

- A) O monitor deve pedir para que todos saiam o mais rápido possível no desembarque, pois é mais seguro.
- B) O monitor deve orientar aos escolares a forma correta de embarque e desembarque do ônibus escolar.
- C) O monitor não deve orientar aos escolares que só devem levantar dos bancos para desembarque após a parada total do veículo.
- D) O monitor pode autorizar que os escolares fiquem em pé ao lado do motorista no ônibus escolar.

QUESTÃO 38 (Valor: 1)

Qual alternativa abaixo é atribuição do monitor de ônibus:

- A) Permitir que os escolares sejam transportados em pé no ônibus escolar.
- B) Permitir que os escolares coloquem o braço pra fora da janela do ônibus escolar.
- C) Identificar e entregar qualquer pertence esquecido dentro do ônibus escolar com a máxima urgência.
- D) Permitir que os escolares façam xingamentos e brincadeiras com pessoas que estão na rua.

QUESTÃO 39 (Valor: 1)

Ainda com relação as atribuições do monitor de ônibus, qual dessas NÃO faz parte do seu trabalho:

- A) Preparar e oferecer lanches para os escolares durante o trajeto.
- B) Verificar os horários dos transportes, informando aos pais e alunos.
- C) Manter o ônibus escolar limpo durante e depois do trajeto.
- D) Fiscalizar o motorista do ônibus escolar para cumprimento da legislação de trânsito.



QUESTÃO 40 (Valor: 1)

Quais das alternativas abaixo é função do monitor de ônibus:

- A) Orientar os passageiros para que passem fora da faixa de pedestres.
- B) Orientar os passageiros para que não passem pela frente do veículo.
- C) Discutir de modo agressivo com o motorista do ônibus durante o trajeto.
- D) Ser grosseiro com as crianças quando não estiverem se comportando.